

L'école à la maison jeudi 12 mars et vendredi 13 mars

Rituels : Les rituels sont mis en place depuis quelques mois, ils sont composés d'une énigme mathématique, d'un verbe à conjuguer, d'un calcul posé et d'une mini-rédaction.

Énigme :

Le prix d'un billet d'entrée au parc d'attractions est de 20€ pour les adultes et de 12€ pour les enfants. Aujourd'hui, Marion est venue au parc avec son père, sa mère et ses frères. Ensemble, ils ont dépensé 98€ dont 10 euros de glaces et 12€ de souvenirs.

Combien de frères Marion a-t-elle ?

1	6	4	5
x			8

Imagine l'histoire du petit garçon (5 lignes minimum).



Vendre (imparfait)	
je	
tu	
il	
nous	
vous	
elles	

Lecture : *Pinocchio*, Carlo Collodi, Le Livre de Poche jeunesse (texte abrégé)

Lire les chapitres 2 et 3.

Résumer le premier chapitre en 2 lignes :

.....
.....

Chapitre 2 :

Quel est le caractère de Geppetto ?

« J'apprends l'alphabet aux fourmis. » Pourquoi Maître Cerise répond-il cela à Geppetto ?

.....
.....
.....

Pourquoi Polenta veut-il un pantin ?

.....
.....

« Bravo, Polenta ! » Selon toi, qui parle ici ? Et pourquoi dit-il ça ?

.....
.....

.....
.....
.....

Chercher dans un dictionnaire (si possible) le mot « houspiller ». Donner un synonyme de ce mot :
.....

Selon toi que veut dire le mot « estropier » ?

« Ayant ainsi réglé leurs comptes, ils se serrèrent la main et jurèrent de rester bons amis toute la vie. » Selon toi vont-ils respecter cette promesse ? Pourquoi ?
.....
.....
.....

Chapitre 3.

Donne un titre au chapitre 3 en t'appuyant sur la manière de l'auteur (Chapitre 1 : Comment Maître Cerise, menuisier, trouve un morceau de bois qui pleurait et riait comme un petit garçon.)
.....
.....

Geppetto est-il un homme riche ? (il faut justifier la réponse)
.....
.....
.....
.....

Selon toi quel est le rêve de Geppetto ?

Selon toi que veut dire l'expression « souffler dans un violon » ?
.....
.....

Pourquoi Geppetto pleure-t-il ?
.....
.....

Pourquoi Geppetto mérite-t-il le coup de talon dans le nez ? (page 20)
.....
.....

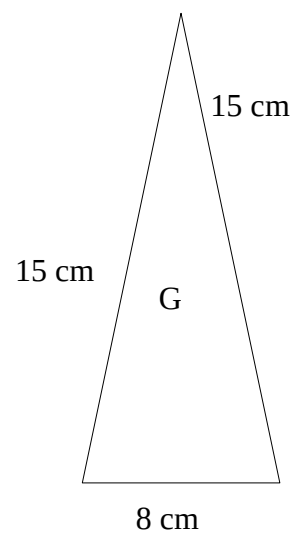
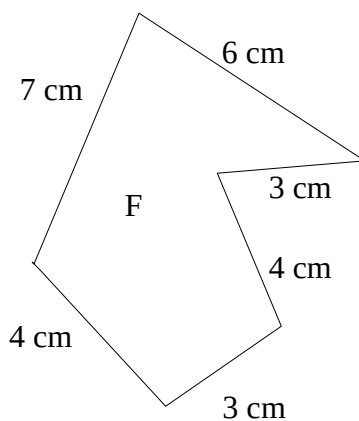
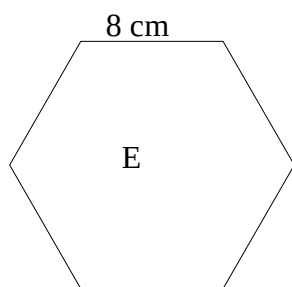
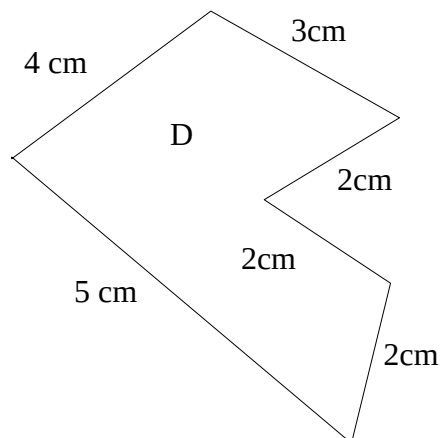
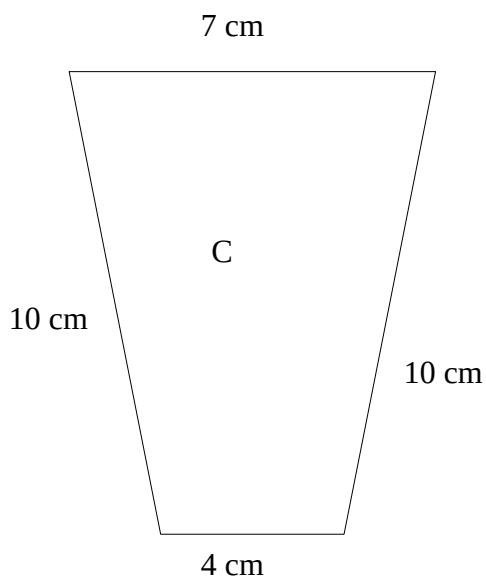
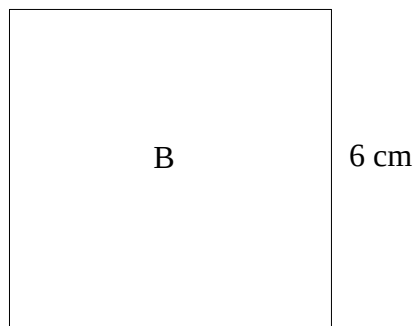
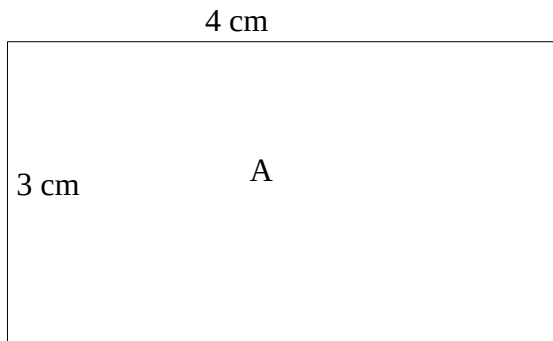
Selon toi que veut dire le mot « cavalcader » ?

Qu'est-ce qu'un carabinier ?

Pourquoi Geppetto est-il arrêté ? Es-tu du même avis que le carabinier ?
.....
.....
.....
.....

Classe les figures géométriques de la plus petite à la plus grande (attention ce sont des schémas, donc les longueurs ne sont pas les longueurs réelles).

Rappel : Pour calculer un périmètre il faut additionner les côtés d'une figure géométrique.



... < ... < ... < ... < ... < ... < ... < ...

Histoire : Le temps des rois (introduction au thème)

Très affaiblie, la dynastie carolingienne disparaît en 987. Les grands seigneurs du royaume désignent alors Hugues Capet comme roi des Francs : c'est le début de la dynastie des rois capétiens qui règnent sur la France pendant plus de 800 ans. d'abord peu puissants, les rois capétiens agrandissent, petit à petit, leur territoire et renforcent leur autorité. À partir du XVI^e siècle, le pouvoir des rois de France est devenu si important que l'on parle alors d'une « monarchie absolue ».

Document 1 : Hugues Capet, le premier roi capétien.



A Hugues Capet avec le sceptre et le manteau à fleur de lys.

B Les grands seigneurs du royaume.

C Les évêques

D La couronne

Enluminure représentant le couronnement d'Hugues Capet en 987, extraite des *Grandes Chroniques de France*, début du XIV^e siècle (Bibliothèque nationale de France, Paris).

Document 2 : Le temps des rois capétiens, au Moyen Âge et aux Temps modernes.



Document 3 : Louis XIV, un roi absolu.



A La main de la justice

B Le collier du Saint-Esprit

C L'épée

D La couronne

E Le sceptre

Peinture de Hyacinthe Rigaud, *Louis XIV en costume de sacre*, 1701, hauteur 2,77 m, largeur 1,94m, (musée du Louvre, Paris).

Lexique :

Une monarchie : un régime politique dans lequel le pouvoir appartient au roi .

Un sceptre : un bâton décoré d'une fleur de lys qui représente l'autorité d'un roi.

Un seigneur : un personnage puissant qui possède de vastes terres et dirige les personnes qui y vivent.

Un symbole : un élément qui représente quelques choses d'abstrait.

































Questions

- 1) Comment le premier roi capétien s'appelle-t-il ?.....
- 2) Quand est-il couronné ?
- 3) Qui le couronne ?
- 4) Quels éléments (objets ou symboles) montrent qu'il est le roi ?
- 5) En quelle année le Moyen Âge se termine-t-il ? Pourquoi ?
- 6) En quelle année les Temps modernes se terminent-ils ? Pourquoi ?
- 7) Cite un roi de France qui a régné au Moyen Âge.
- 8) Cite un roi de France qui a régné pendant la période des Temps modernes.
- 9) Grâce au document 2 indique le nom et les dates de règnes du roi.
- 10) Quels sont les points communs entre le portrait de Louis XIV et celui d'Hugues Capet.
.....
.....
- 11) Quelles sont les différences ?.....
.....
.....
- 12) Selon toi, quelle image Louis XIV veut-il donner de lui avec son portrait ?

Relier les la bonne réponse à la bonne question :

- Have you got brothers or sisters ?
- Are you a boy or a girl ?
- How old are you ?
- What's your name ?
- Have you got a pet ?
- What do you not like ?
- What's your favorite colours ?
- Where do you live ?
- What do you like ?

- . My name is Carine
- . My favourite colours is pink
- . I have got 1 sister and 2 brothers.
- . I like swimming
- . I don't like fish
- . I'm a girl
- . I'm 6 years old
- . I live in Paris, in France
- . I have got a dog

 <div style="border: 1px solid black; border-radius: 15px; padding: 5px; display: inline-block; margin: 5px;">James</div> <div style="border: 1px solid black; border-radius: 50%; width: 30px; height: 30px; display: flex; align-items: center; justify-content: center; margin: 5px;">7</div> 	 <div style="border: 1px solid black; border-radius: 15px; padding: 5px; display: inline-block; margin: 5px;">Amy</div> <div style="border: 1px solid black; border-radius: 50%; width: 30px; height: 30px; display: flex; align-items: center; justify-content: center; margin: 5px;">8</div> 
 Liverpool (England) 	 Aberdeen (Scotland) 
 	 
    	     
    	   

Voici des cartes d'identités, avec l'aide du document Help ! , il faut répondre aux questions suivantes :

- Are you a boy or a girl ?
- What's your name ?
- How old are you ?
- What's your favorite colours ?
- Where do you live ?
- Have you got brothers or sisters ?
- Have you got a pet ?
- What do you like ?
- What do you not like ?

<p><i>Help !</i></p> <p><i>Colours</i></p> <p>red blue green pink orange brown purple yellow grey black white</p> <p><i>Numbers</i></p> <p>① one ② two ③ three ④ four ⑤ five ⑥ six ⑦ seven ⑧ eight ⑨ nine ⑩ ten ⑪ eleven ⑫ twelve</p> <p><i>Pets</i></p> <p>hamster turtle cat dog rabbit</p>	<p><i>Help !</i></p> <p><i>Food</i></p> <p>chicken fish cake banana hamburger apple carrot cheese</p> <p><i>Hobbies</i></p> <p>running swimming singing dancing reading watching TV cooking</p>
---	---

Créer sa propre carte d'identité.

Avec l'aide d'un téléphone d'un ordinateur s'enregistrer. Il faut poser et répondre aux questions

Calcul mental

Résoudre les calculs en 4 minutes (utiliser un chronomètre ou un minuteur). **L'utilisation de la calculatrice est interdite.**

$20 \times 10\,000 = \dots\dots\dots$

$120 - 22 = \dots\dots\dots$

$340 - 50 = \dots\dots\dots$

$350 \times 100\,000\,000 = \dots\dots\dots$

$1\,387 + 503 = \dots\dots\dots$

$234 + 10 + 20 + 6 = \dots\dots\dots$

$44 \div 2 = \dots\dots\dots$

$12 \times 4 = \dots\dots\dots$

$50 + 50 + 50 + 50 = \dots\dots\dots$

$500 \div 2 = \dots\dots\dots$

$11 \times 7 = \dots\dots\dots$

$100 - 50 - 20 - 5 = \dots\dots\dots$

$1\,246 + 260 = \dots\dots\dots$

$399 + 20 = \dots\dots\dots$

$20 \times 4 = \dots\dots\dots$

$1330 - 400 = \dots\dots\dots$

$678 - 80 = \dots\dots\dots$

$999 + 100 = \dots\dots\dots$

$8 \times 9 = \dots\dots\dots$

$1\,234 - 38 = \dots\dots\dots$

Une fois les 4 minutes terminées, corriger les calculs, vous pouvez passer par la pose des calculs au besoin (**La calculatrice est interdite**).

Rédaction :

Le chapitre 4 du livre Pinocchio a pour titre : L'aventure de Pinocchio avec le Grillon-qui-parle, où l'on voit que les méchants garçons n'aiment pas se faire corriger par qui en sait plus qu'eux.

Il faut imaginer ce qu'il va se passer dans ce chapitre. Vous devez écrire un texte d'au moins 15 lignes. Celui-ci devra être conjugué à l'imparfait de l'indicatif. Attention il ne faut pas oublier que le narrateur utilise le pronom « je ».