

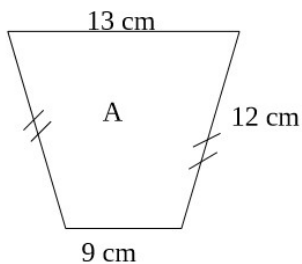
Dossier N°2 : 19 et 20 mars

Lecture : Questions de lecture des chapitres 4,5, 6 et 7

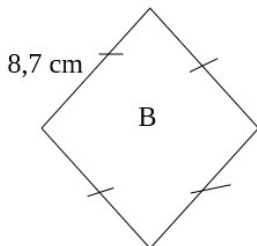
- 1) Présente le Grillon en 2 lignes : **Le grillon qui parle, il est centenaire. C'est un personnage sage qui tente de conseiller Pinocchio. Il a un rôle de conscience.**
- 2) Comment et pourquoi le Grillon meurt-il ? **Les paroles du grillon énervent Pinocchio, le pantin va l'écraser avec un maillet.**
- 3) Pourquoi Pinocchio regrette-t-il de s'être enfui dans le chapitre 3 ? **Oui Pinocchio regrette de s'être enfui. S'il était resté chez lui Geppetto se serait pas sorti, il ne se serait pas fait arrêter, et Geppetto aurait pu nourrir Pinocchio.**
- 4) Dans le chapitre 5, Pourquoi le pantin ne peut-il pas manger l'œuf ? **Pinocchio ne peut pas manger l'œuf, car un poussin en sort.**
- 5) Que lui offre un des villageois quand Pinocchio réclame à manger ? **Quand Pinocchio réclame à manger chez le voisin, il reçoit une bassine d'eau.**
- 6) Comment Pinocchio perd-il ses pieds ? **Pinocchio pose les pieds dans le feu pour les faire sécher et s'endort, en se réveillant ses pieds étaient brûlés.**
- 7) À la page 37 le pantin résume ses aventures, est-ce la vérité ? **Pinocchio raconte plus ou moins la vérité à Geppetto. Ce qu'il raconte s'est vraiment passé, mais Pinocchio raconte que le grillon était méchant, qu'il se moquait du pantin. Hors le grillon était quelqu'un de poli et respectueux.**
- 8) À ton avis Pinocchio mérite-t-il la gentillesse de son père ? **Justifie ta réponse. Pinocchio ne mérite pas la gentillesse de son père, il est responsable de l'arrestation de son père et depuis qu'il est construit il est méchant avec Geppetto. Il le tape, se moque, le fait arrêter, il est égoïste, etc.**
- 9) Pinocchio mange les 3 poires de Geppetto, dans le chapitre 7. Comment trouves-tu son attitude ? **Justifie ta réponse. Pinocchio est égoïste. Il sait que son père a faim et quand lui donnant ses poires, son père ne pourra pas manger. Mais Pinocchio prend les poires sans partager, en plus il est capricieux et fait son difficile.**

Mathématiques : Le périmètre

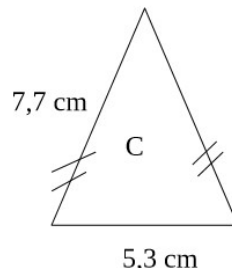
Exercice 1 : Calculer le périmètre des figures suivantes



P(A) = **46 cm**



P(B) = **34,8 cm**



P(C) = **20,7 cm**

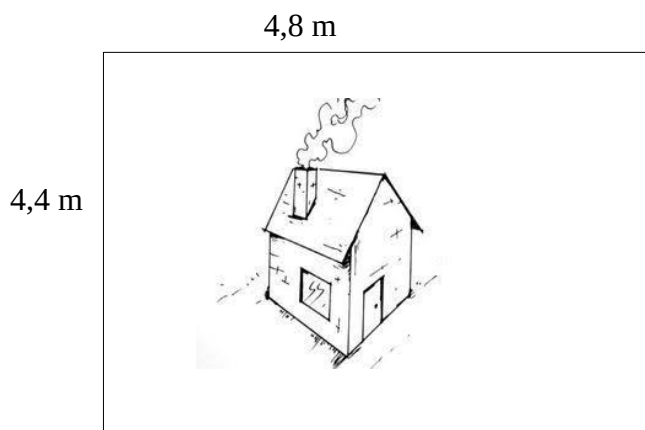
Exercice 2 : Mesurer les côtés du polygone et calculer le périmètre.



$7,5 + 7,5 + 4,7 + 4,7 = 24,4$

P = 24,4 cm

Exercice 3 : Geppetto veut empêcher Pinocchio de s'enfuir en grillageant son terrain. Il va acheter 15 mètres de grillage. A-t-il suffisamment de matériel pour faire le tour de son terrain ?



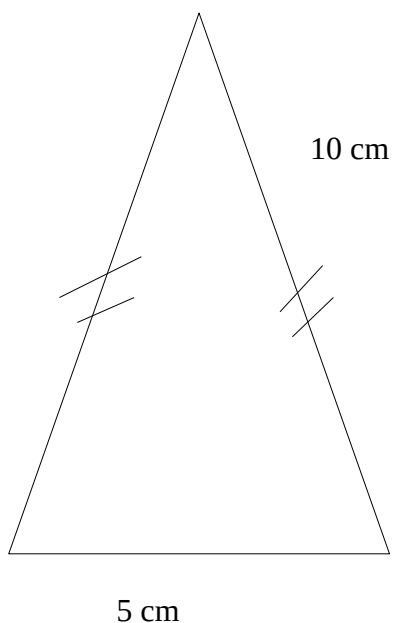
P(du terrain) = 18,4 m



$4,8 \times 2 = 9,6 \text{ m}$
 $4,4 \times 2 = 8,8 \text{ m}$

$9,6 \text{ m} + 8,8 \text{ m} = 18,4 \text{ m}$

Exercice 4 : Tracer un triangle ABC de périmètre 25 cm



Conjugaison : L'imparfait

Exercice 1 : Souligner en rouge les verbes conjugués à l'imparfait et en vert leur sujet.

« Or, c'**était** une épouvantable **nuit d'hiver**. **Le tonnerre grondait**, **des éclairs zébraient** le ciel comme s'**il était** en feu, **un vent glacial**, sifflant rageusement et soulevant un énorme nuage de poussière, **faisait** craquer et gémir les arbres de la campagne. **Pinocchio avait** très peur du tonnerre et des éclairs. Pourtant, **sa faim était** plus forte que sa peur. »

Exercice 2 : Donner les infinitifs des verbes conjugués dans le texte.

C'était= être

Grondait = gronder

Zébraient = zébrer

Était= être

Faisait = faire

Avait= avoir

Était = être

Exercice 3 : Transformer le texte au futur simple de l'indicatif.

« Or, ce **sera** une épouvantable nuit d'hiver. Le tonnerre **grondera**, des éclairs **zébreront** le ciel comme-s'il **sera** en feu, un vent glacial, sifflant rageusement et soulevant un énorme nuage de poussière, **fera** craquer et gémir les arbres de la campagne. Pinocchio **aura** très peur du tonnerre et des éclairs. Pourtant, sa faim **sera** plus forte que sa peur. »

Calcul mental

Résoudre les calculs en 3 minutes (utiliser un chronomètre ou un minuteur). L'utilisation de la calculatrice est interdite.

$12 \times 2 = \dots\dots\dots 24 \dots\dots\dots$

$20 \times 12 = \dots\dots\dots 240 \dots\dots\dots$

$21 - 9 = \dots\dots\dots 12 \dots\dots\dots$

$10\,000 \div 2 = \dots\dots\dots 5\,000 \dots\dots\dots$

$2\,456 + 54 = \dots\dots\dots 2\,510 \dots\dots\dots$

$(5 \times 5) - 3 = \dots\dots\dots 22 \dots\dots\dots$

$12 \div 4 = \dots\dots\dots 3 \dots\dots\dots$

$444 \div 2 = \dots\dots\dots 222 \dots\dots\dots$

$8 + 2 + 12 + 15 = \dots\dots\dots 37 \dots\dots\dots$

$888 \div 4 = \dots\dots\dots 222 \dots\dots\dots$

$20 \times 5 = \dots\dots\dots 100 \dots\dots\dots$

$345 - 48 = \dots\dots\dots 297 \dots\dots\dots$

$34 - 5 - 8 - 1 = \dots\dots\dots 20 \dots\dots\dots$

$3\,450 - 500 = \dots\dots\dots 2\,950 \dots\dots\dots$

$(6 \times 4) + 5 = \dots\dots\dots 29 \dots\dots\dots$

$1\,250 - \dots\dots 101 \dots\dots = 1\,149$

$835 \times 10\,000 = \dots\dots\dots 8\,350\,000 \dots\dots\dots$

$33 + 20 + 12 + 5 + 15 = \dots\dots\dots 85 \dots\dots\dots$

$43 - 14 = \dots\dots\dots 29 \dots\dots\dots$

$(22 \times 4) + 2 = \dots\dots\dots 90 \dots\dots\dots$

Une fois les 4 minutes terminées, corriger les calculs, vous pouvez passer par la pose des calculs au besoin (La calculatrice est interdite).

Histoire : Partie 1

- 1) Les objets royaux portés par Louis IX sont : La couronne, le manteau à fleurs de lys, la main de la justice et le sceptre.
- 2) On peut voir que Louis IX est un saint sur le tableau, car il y a une auréole autour de la tête.
- 3) Louis IX est l'auteur du texte, il l'a écrit au XIII^e siècle, pour son fils. Philippe.
- 4) Louis IX recommande à son fils d'être un roi juste, attentif, charitable et pieux (bon croyant).
- 5) Pour Louis IX il faut protéger « les gens de la sainte Église ».
- 6) Louis IX parvient à vaincre la révolte religieuse des cathares dans le sud de la France.
- 7) Les croisades sont organisées contre la religion musulmane dans le bassin méditerranéen.
- 8) Louis IX meurt à Tunis en 1270.

Que se passe-t-il le 25 avril 1214 ? **Naissance de Louis IX**

Qui est Blanche de Castille ? **Blanche de Castille est la mère de Louis IX.**

Où vit la famille royale depuis le Vè siècle ? **Ils vivent au château de Poissy.**

En 1226 qui meurt ? **Le roi Louis VIII meurt.**

À quel âge Louis de Poissy est-il sacré roi ? **Il est sacré roi à 12 ans.**

Qu'est que la régence ? Qui l'assure jusqu'aux 21 ans du roi ? **Une régence c'est quand une
Personne gouverne à la place du roi. C'est Blanche de Castille la régente jusqu'au 21 ans du roi**

Décris le caractère du roi. **Louis IX est un roi juste vertueux et pieux.**

Que renferme la sainte chapelle ? **La saint Chapelle renferme les reliques de la Passion du Christ.**

Quel est le vœu de Louis IX ? **Son vœu est de partir en croisade.**

Qui gouverne en France pendant que le roi part en croisade ? **Blanche de Castille.**

Quand est-il capturé ? Et où ? **Il est capturé en Mansourah 1250.**

Louis IX est-il un roi juste ? Justifie ta réponse.

- **Oui Louis IX est un roi juste. Il arbitre les conflits**
- **internationaux. Louis IX ne prends pas parti pour les plus**
- **riches, il défends les pauvres. Il fait bâtir des hôpitaux**

Qu'est ce qui est interdit en France ?

**Louis IX a interdit en France la prostitution, le blasphèmes, les jeux d'argents et le prêt à intérêts.
Il interdit toutes ces choses pour protéger ses sujets.**

Comment Louis IX meurt-il ? **Louis IX meurt de la peste.**

Qu'écrit-il avant de mourir ? Pour qui ? **Il est écrit son testament pour son fils (ses enseignements)**

Quelle est la date de mort de Louis IX ? Combien de temps a-t-il régné ? **Il meurt 25 août 1270
Après avoir régné 44 ans.**

Que veut dire le mot « Canonisé » ? **L'église reconnaît une personne décédée comme sainte.**

Put the right word under the right picture, (Placer le bon mot sous la bonne image).

Leprechaun, Saint Patrick, parade, shamrock, Irish flag, pot of gold, rainbow, top hat, gold coins, Saint Patrick's Day, firework.



Leprechaun



rainbow



top hat

gold coins



Saint Patrick's Day



shamrock



parade



pot of gold



Saint Patrick



Irish flag