


Dossier N°2 : 19 et 20 mars

Lecture : Questions de lecture des chapitres 4,5, 6 et 7

- 1) Présente le Grillon en 2 lignes : **Le grillon qui parle, il est centenaire. C'est un personnage sage qui tente de conseiller Pinocchio. Il a un rôle de conscience.**
- 2) Comment et pourquoi le Grillon meurt-il ? **Les paroles du grillon énervent Pinocchio, le pantin va l'écraser avec un maillet.**
- 3) Pourquoi Pinocchio regrette-t-il de s'être enfui dans le chapitre 3 ? **Oui Pinocchio regrette de s'être enfui. S'il était resté chez lui Geppetto se serait pas sorti, il ne se serait pas fait arrêter, et Geppetto aurait pu nourrir Pinocchio.**
- 4) Dans le chapitre 5, Pourquoi le pantin ne peut-il pas manger l'œuf ? **Pinocchio ne peut pas manger l'œuf, car un poussin en sort.**
- 5) Que lui offre un des villageois quand Pinocchio réclame à manger ? **Quand Pinocchio réclame à manger chez le voisin, il reçoit une bassine d'eau.**
- 6) Comment Pinocchio perd-il ses pieds ? **Pinocchio pose les pieds dans le feu pour les faire sécher et s'endort, en se réveillant ses pieds étaient brûlés.**
- 7) À la page 37 le pantin résume ses aventures, est-ce la vérité ? **Pinocchio raconte plus ou moins la vérité à Geppetto. Ce qu'il raconte s'est vraiment passé, mais Pinocchio raconte que le grillon était méchant, qu'il se moquait du pantin. Hors le grillon était quelqu'un de poli et respectueux.**
- 8) À ton avis Pinocchio mérite-t-il la gentillesse de son père ? **Justifie ta réponse. Pinocchio ne mérite pas la gentillesse de son père, il est responsable de l'arrestation de son père et depuis qu'il est construit il est méchant avec Geppetto. Il le tape, se moque, le fait arrêter, il est égoïste, etc.**
- 9) Pinocchio mange les 3 poires de Geppetto, dans le chapitre 7. Comment trouves-tu son attitude ? **Justifie ta réponse. Pinocchio est égoïste. Il sait que son père a faim et quand lui donnant ses poires, son père ne pourra pas manger. Mais Pinocchio prend les poires sans partager, en plus il est capricieux et fait son difficile.**

Exercice 1 : Calculer le périmètre du carré.



4 cm

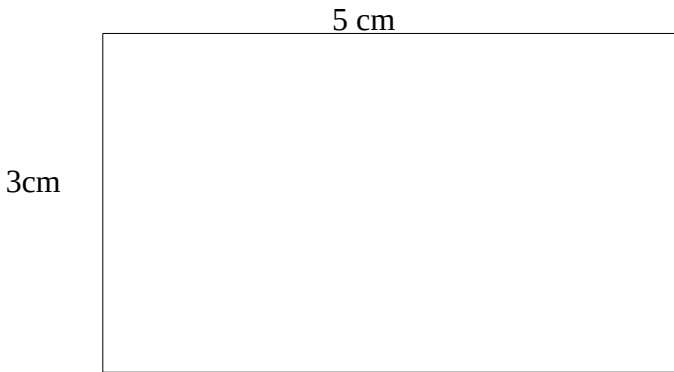
Comment as-tu fait ?

On calcule les 4 côtés, $4+4+4+4 = 16\text{cm}$

Cherche une formule pour calculer, plus rapidement le périmètre d'un carré.

$P(\text{carré}) = \text{côté} \times 4$

Exercice 2 : Calculer le périmètre d'un rectangle.



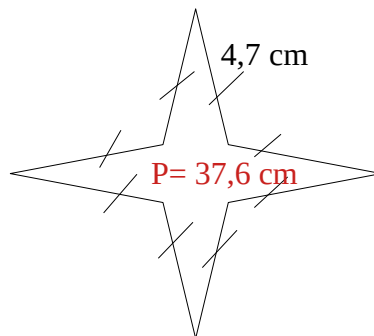
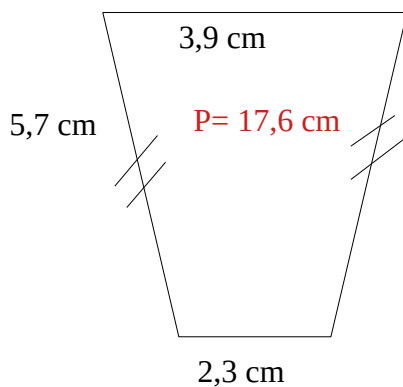
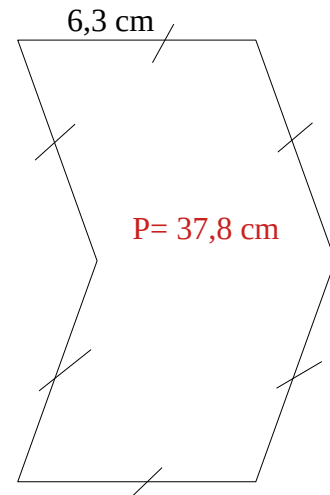
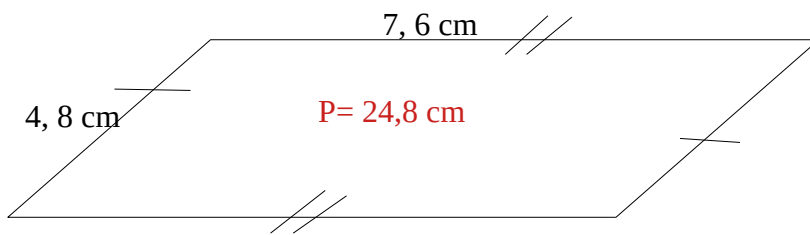
Comment as-tu fait ?

On additionne les côtés. $5+5+3+3= 16 \text{ cm}$


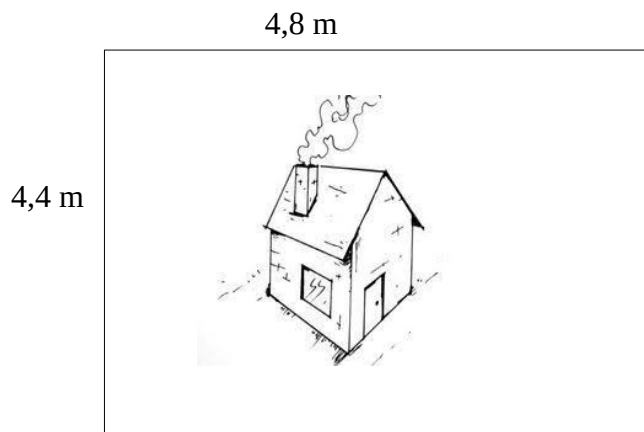
Cherche une formule pour calculer plus rapidement le périmètre d'un carré

$P(\text{rectangle}) = (L+l) \times 2$

Exercice 3 : Calculer le périmètre des figures suivantes.



Exercice 4 : Geppetto veut empêcher Pinocchio de s'enfuir en grillageant son terrain. Il va acheter 15 mètres de grillage. A-t-il suffisamment de matériel pour faire le tour de son terrain ?



$$4,8 \times 2 = 9,6 \text{ m}$$

$$4,4 \times 2 = 8,8 \text{ m}$$

$$9,6 \text{ m} + 8,8 \text{ m} = 18,4 \text{ m}$$

$$P(\text{du terrain}) = 18,4 \text{ m}$$

Calcul mental

Résoudre les calculs en 3 minutes (utiliser un chronomètre ou un minuteur). L'utilisation de la calculatrice est interdite.

$$12 \times 2 = 24$$

$$20 \times 12 = 240$$

$$34 - 1,4 = 32,6$$

$$10\,000 \div 2 = 5\,000$$

$$2\,456 + 54 = 2\,510$$

$$(5 \times 5) - 3,5 = 21,5$$

$$12 \div 4 = 3$$

$$444 \div 2 = 222$$

$$6,5 + 6,7 + 10,3 = 23,5$$

$$888 \div 4 = 222$$

$$20 \times 5 = 100$$

$$345 - 48 = 297$$

$$34 - 5 - 8 - 1 = 20$$

$$3\,450 - 500 = 2\,950$$

$$(6 \times 4) + 5 = 29$$

$$1\,250 - 101 = 1\,149$$

$$835 \times 10\,000 = 8\,350\,000$$

$$33 + 20 + 12 + 5 + 15 = 85$$

$$10,5 - 5,3 = 5,2$$

$$(22 \times 4) + 2 = 90$$

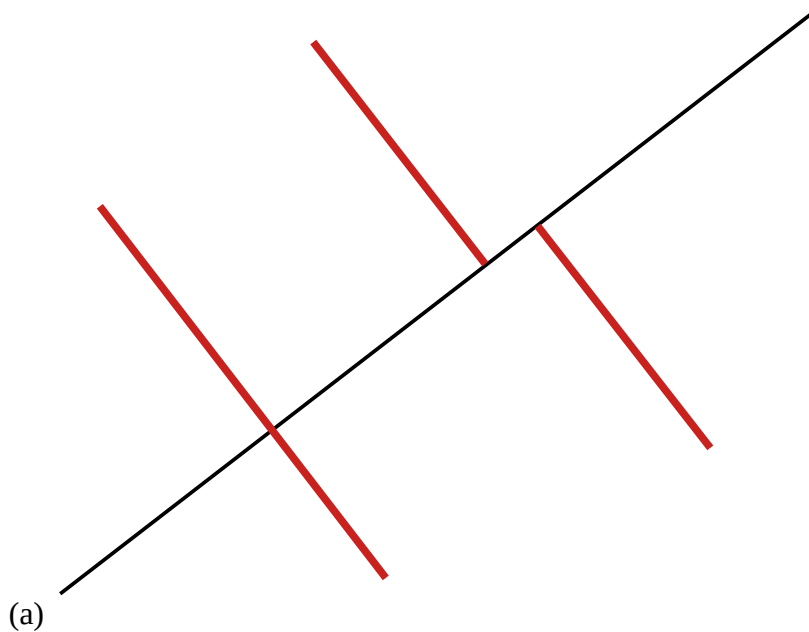
Une fois les 4 minutes terminées, corriger les calculs, vous pouvez passer par la pose des calculs au besoin (La calculatrice est interdite).

L'industrialisation change-t-elle la vie dans les campagnes ?

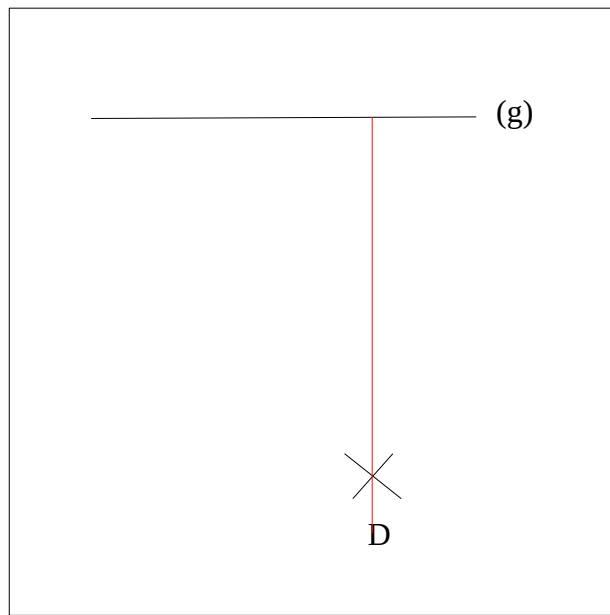
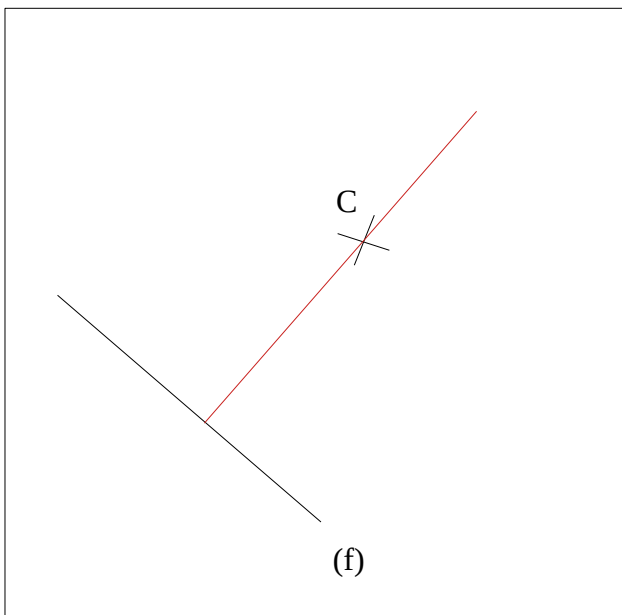
Questions

- 1) Quelles informations l'affiche publicitaire t'apprend-elle sur les tracteurs de Case ?
L'affiche nous apprend que les tracteurs Case fonctionnent au pétrole ou à l'essence. On apprend aussi qu'il y a « trois forces de même types », il y a donc trois manières d'utiliser les engins.
- 2) À ton avis, quels changements l'utilisation de tracteurs peut-elle entraîner dans les campagnes ?
L'utilisation du tracteur, peut faciliter le travail des agriculteurs. Les récoltes peuvent être plus rapides et moins fatigantes. Avec les machines les agriculteurs font des économies, ils ne sont plus obligés d'embaucher de la main d'œuvre.
- 3) Quand le chemin de fer arrive-t-il dans le village ? Le chemin de fer arrive dans les villages en 1881.
- 4) Que permet-il ? Le chemin de fer permet de faire de l'exportation.
- 5) Comment les habitants du village réagissent-ils à l'arrivée des premières faucheuses mécaniques ?
Les habitants du village sont dubitatifs faces à l'arrivée des premières faucheuses. Ils n'en veulent pas et trouvent des excuses pour ne pas en acheter. Pour les habitants du village la faucheuse mécanique n'est pas nécessaire.
- 6) Qu'est-ce que « l'exode rural » ? Migration des habitants des zones rurales et principalement de la population agricole, vers les zones urbaines.
- 7) Les migrations des ruraux sont-elles saisonnières ou définitives ? Justifie ta réponse.
Au début la migration des ruraux est saisonnière, les agriculteurs les plus pauvres qui ne peuvent acheter des machines et des engrais partent vers la ville pour trouver du travail. Ils retournaient chez eux en été au moment des récoltes. La migration devient définitive par la suite pour les régions les plus pauvres.
- 8) Vers 1850, Combien de Français habitaient dans les campagnes ? Trois français sur quatre habitent à la campagne en 1850
- 9) Qu'est ce qui ne change pas dans les campagnes ? Les habitants des campagnes conservent leurs habitudes de vie et vivent toujours au rythme des saisons. Ils conservent leurs traditions.


Exercice 1 : Tracer 3 droites perpendiculaires à la droite (a).



Exercice 2 : Tracer les perpendiculaires des droites en passant par les points C, D



Exercices 3 : Tracer un carré de côtés 4 cm et un rectangle de longueurs 5 cm et de largeurs 3 cm.



Conjugaison : L'imparfait/ futur

Exercice 1 : Souligner en rouge les verbes conjugués à l'imparfait et en vert leur sujet.

« Or, c'**était** une épouvantable **nuit d'hiver**. **Le tonnerre grondait**, **des éclairs zébraient** le ciel comme s'**il était** en feu, **un vent glacial**, sifflant rageusement et soulevant un énorme nuage de poussière, **faisait** craquer et gémir les arbres de la campagne. **Pinocchio avait** très peur du tonnerre et des éclairs. Pourtant, **sa faim était** plus forte que sa peur. »

Exercice 2 : Transformer le texte au futur simple de l'indicatif.

« Or, ce **sera** une épouvantable nuit d'hiver. Le tonnerre **grondera**, des éclairs **zébreront** le ciel comme **s'il sera** en feu, un vent glacial, sifflant rageusement et soulevant un énorme nuage de poussière, **fera** craquer et gémir les arbres de la campagne. Pinocchio **aura** très peur du tonnerre et des éclairs. Pourtant, sa faim **sera** plus forte que sa peur. »

Exercice 3 : Conjuguer les verbes entre parenthèses au futur.

La maison de Geppetto (être) **sera** une petite pièce sur rue, qui (tirer) **tirera** sa lumière d'une soupente. Sur le mur du fond on (voir) **verra** une cheminée avec un feu allumé. Au-dessus, une bouilloire, peinte, (bouillir) **bouillira** joyeusement.

Exercice 4 : Transformer les phrases à l'imparfait.

- Amène-moi le livre ! → **Tu amenais le livre.**
- Pinocchio mangera toutes les poires. → **Pinocchio mangeait toutes les poires.**
- Papa, je suis désolé. → **Papa, j'étais désolé.**
- Geppetto regarde son fils, il l'aime mais Pinocchio le fatigue. → **Geppetto regardait son fils, il l'aimait mais Pinocchio le fatiguait.**
- Pinocchio et ses amis volent les commerçants. → **Pinocchio et ses amis volaient les commerçants.**
- Marchons dans le village ! → **Nous marchions dans le village.**
- Geppetto et toi formez une belle famille. → **Geppetto et toi formiez une belle famille.**

Exercice 5 : Écrire un court texte au futur en utilisant les verbes : finir, comprendre, être, avoir, courir, faire, venir.

Pas de correction commune

Put the right word under the right picture, (Placer le bon mot sous la bonne image).

Leprechaun, Saint Patrick, parade, shamrock, Irish flag, pot of gold, rainbow, top hat, gold coins, Saint Patrick's Day, firework.



Leprechaun



rainbow



top hat

gold coins



Saint Patrick's Day



shamrock



parade



pot of gold



Saint Patrick



Irish flag