

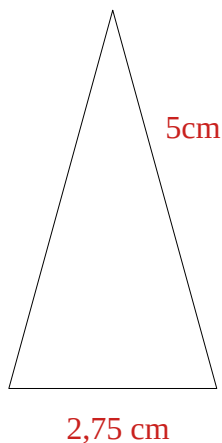
Dossier N° 6 : 30/04 et 01/05

Lecture : lire le chapitre 31

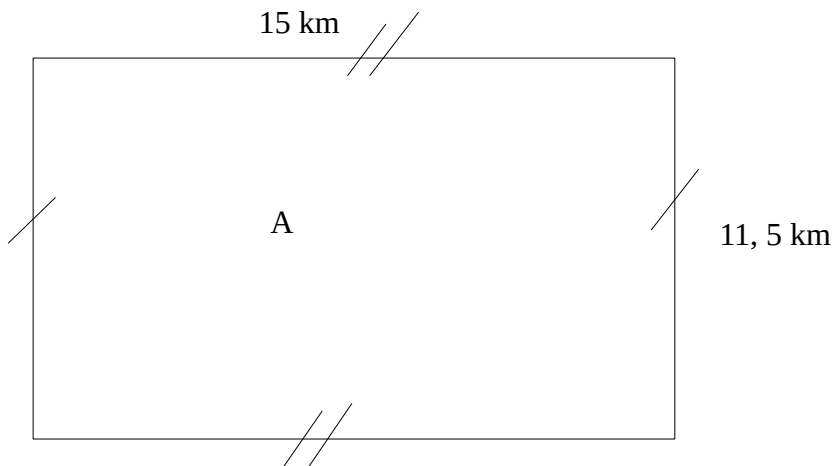
- 1) Qu'est-ce qu'une voiture dans ce chapitre ? **Une calèche**
- 2) Illustrer la voiture ainsi que son chauffeur. Attention aux couleurs. (dessin à faire sur une feuille A4) = **Travail personnel sans correction**
- 3) Pourquoi les enfants sont heureux de se rendre dans ce nouvel endroit ? **Les enfants sont heureux car ils se rendent dans un pays où les enfants n'auront pas d'école**
- 4) Qu'est-ce qu'un brancard dans le chapitre 31 ? **Un brancard désigne à l'origine une barre ou pièce de bois allongée permettant de transporter un objet auquel elle est solidement fixée.**
- 5) Pinocchio est une fois de plus devant un dilemme, quel est-il et quel est son choix ? **Pinocchio doit faire un choix : Rentrer chez lui pour étudier où partir au Pays Des Récréations et s'amuser.**
- 6) Pourquoi l'ânon pleure-t-il selon toi ? **Hypothèse personnelle**
- 7) Comment décrirais-tu le Pays des Récréations ? **Le Pays des Récréations est un lieu d'amusement sans responsabilités. Les enfants sont insouciants dans ce lieu utopique.**
- 8) Voudrais-tu te rendre dans ce pays ? Pourquoi ? **Réponse personnelle**
- 9) « [...] Pinocchio eut une sacrée mauvaise surprise, qui le mit de très méchante humeur. ». Imagine la suite de l'histoire. Tu dois faire au moins 5 lignes. **Hypothèse personnelle.**

Géométrie : périmètres

Exercice 1 : Construire un triangle de périmètre $12 \frac{3}{4}$ cm = **12,75 cm**

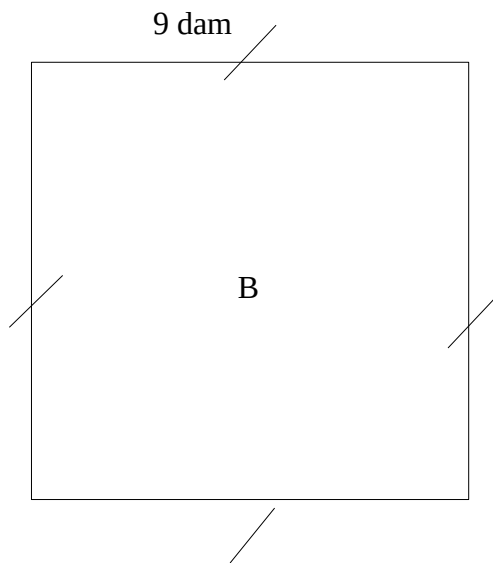


Exercice 2 : Avec l'aide des formules calculer les périmètres et les donner en cm.



$$(L+l) \times 2 = (15 + 11,5) \times 2 = (26,5) \times 2 = 53 \text{ km}$$
$$53 \text{ km} = 5\,300\,000 \text{ cm}$$

$$P(A) = 5\,300\,000 \text{ cm}$$



$$C \times 4 = 9 \times 4 = 36 \text{ dam}$$
$$36 \text{ dam} = 36\,000 \text{ cm}$$
$$P(B) = 36\,000 \text{ cm}$$

Exercice 3 : Le Pays des Récréations mesure 5 km de longueur et 7 hm de largeur. Pinocchio met 1 heure pour parcourir 2 km. Combien de temps va-t-il mettre pour faire le tour du Pays des Récréations ?

$$7 \text{ hm} = 0,7 \text{ km}$$



$$(L+l) \times 2 = (5 + 0,7) \times 2 = (5,7) \times 2 = 11,4 \text{ km}$$

$$P(\text{Le Pays des Récréations}) = 11,4 \text{ km}$$

$$11,4 : 2 = 5,7$$

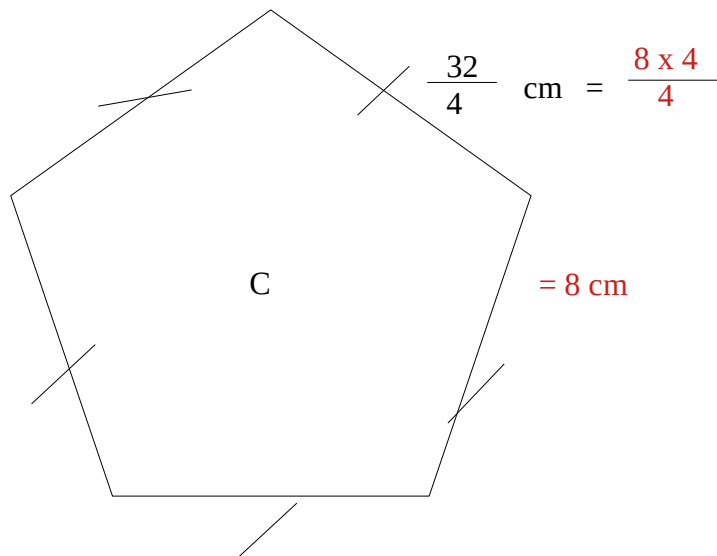
Pinocchio mettra un peu plus de 5 heures pour faire le tour du Pays des récréations.

Exercice 4 : Construire une figure géométrique à 4 côtés et de périmètre $\frac{16}{4}$ cm.

$$\frac{4}{4} = 1 \quad \frac{16}{4} = \frac{4}{4} + \frac{4}{4} + \frac{4}{4} + \frac{4}{4} = 1 + 1 + 1 + 1 = 4$$



Exercice 5 : Calcule le périmètre du polygone.



$$8 \times 5 = 40 \text{ cm}$$

$$P(C) = 40 \text{ cm}$$

Exercice 6 : Mesure les longueurs de ta chambre et calcule son périmètre.

Correction individuelle

1) Quand le président de la République décrète-t-il la mobilisation générale en France ?

Le président décrète la mobilisation générale le 1^{er} août 1914

2) à ton avis, pourquoi a-t-il pris cette décision ? Et quelle est son utilité ?

Il a pris cette décision afin de réquisitionner des soldats et du matériel (voitures, animaux, etc) pour compléter le matériel de l'armée. C'est utile cela permet d'avoir plus de soldats et cela permet d'avoir le matériel nécessaire pour faire la guerre.

3) Cite deux exemples de rivalités en Europe avant le déclenchement de la guerre.

- Les Allemands menacés par les Russes
- Rivalités entre l'Allemagne et la France pour la conquête de l'Alsace-Lorraine.

4) Quelles sont les deux grandes alliances militaires entre les pays d'Europe ? Donne les noms des alliances et les pays qui les composent.

Triple Entente = Russie, France et Royaume-Uni

Triple Alliance = Allemagne, Autriche-Hongrie et Italie

5) Quels événements est à l'origine du déclenchement de la guerre ?

L'assassinat de l'archiduc d'Autriche-Hongrie François-Ferdinand en juin 1914 à Sarajevo est à l'origine du déclenchement de la guerre.

6) Fait des recherches sur cet événement, donne le lieu et la date.

28 juin 1914 à Sarajevo

7) Quelle armée domine l'autre en septembre 1914 ?

L'armée Allemande domine l'armée française en 1914.

8) Explique comment les soldats font la guerre à partir de 1915.

En 1914 les soldats sont dans des tranchées. Il s'agit de longs fossés étroits. Cela permet de les protéger et de maintenir leur position.

9) Pourquoi les mutineries de soldats se produisent-elles en 1917 ?

Les soldats se mutinent car ils ne veulent plus se battre. Ils sont fatigués suite aux nombreuses batailles et ils jugent les attaques de 1917 « inutiles ». La guerre devait être courte, mais cela fait 3 ans qu'ils vivent cela et les soldats en ont marre.

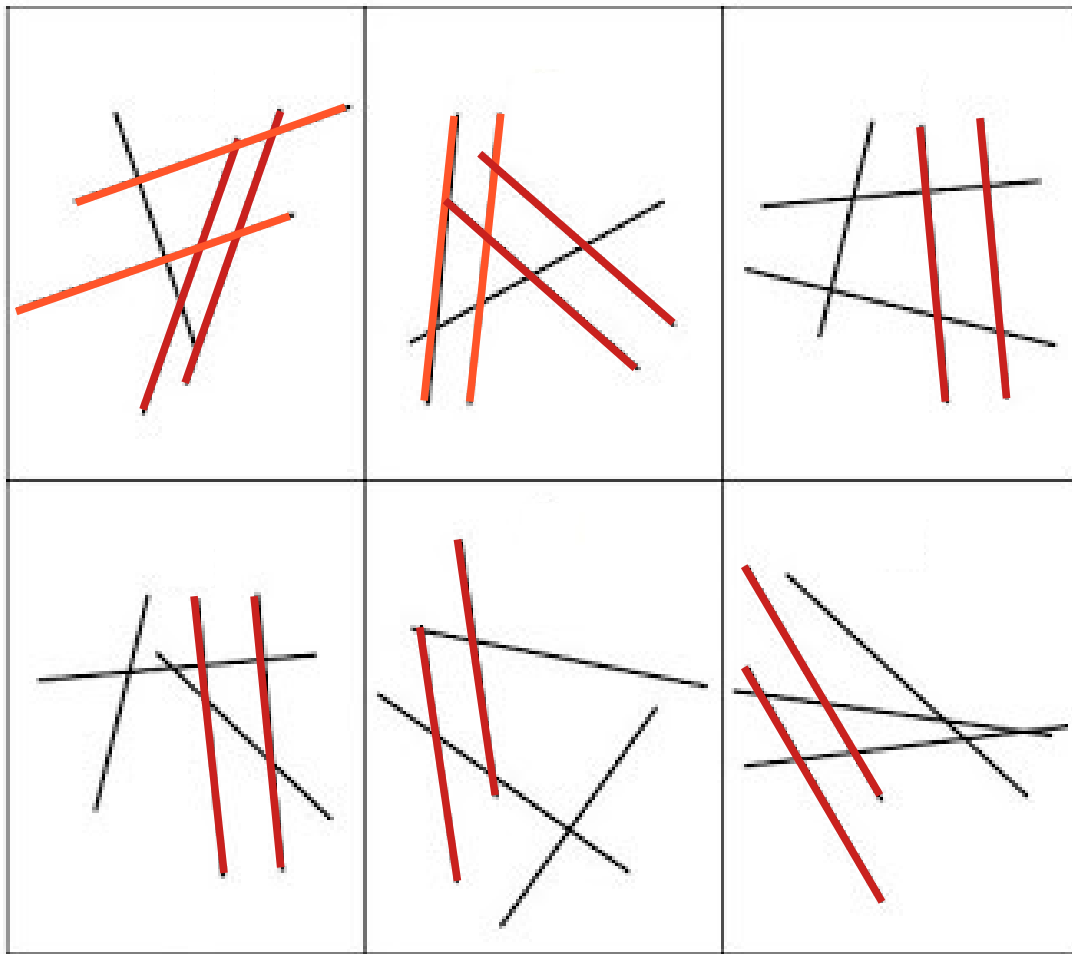
10) Quel traité met fin à la guerre entre l'Allemagne et la France ?

Le 11 Novembre est signé l'armistice, il s'agit d'une suspension des hostilités, puis le traité de paix est signé en juin 1919, mettant ainsi fin à la guerre entre l'Allemagne et la France.

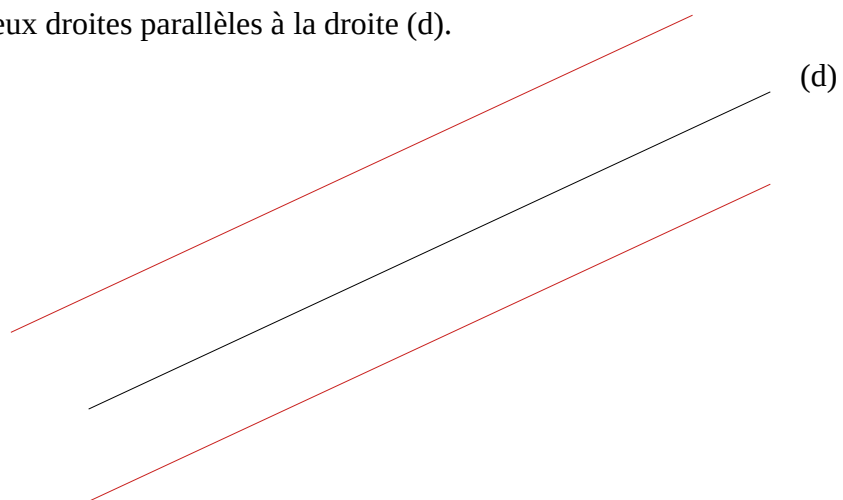
Lexique :

- Une alliance : un accord entre deux pays.
- Annexé : rattaché à un autre territoire.
- Lefront : Zone de combats avec l'ennemi.
- Une mobilisation : La préparation de l'armée pour faire la guerre.
- Une tranchée : un fossé long et étroit.

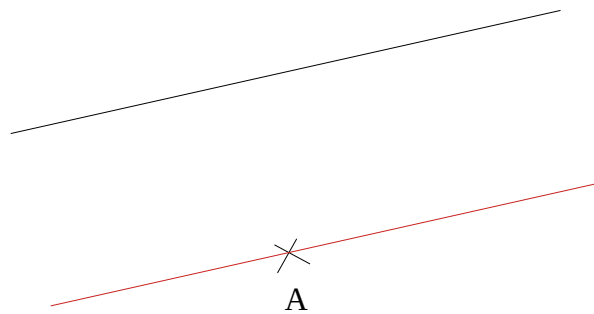
Exercice 1 : Repasse en rouge toutes les droites qui sont parallèles dans ces ensembles de droites.



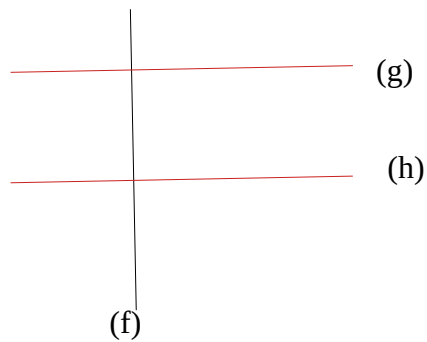
Exercice 2 : Trace deux droites parallèles à la droite (d).



Exercice 3 : Tracer la droite parallèle à la droite (e) et passant par A.

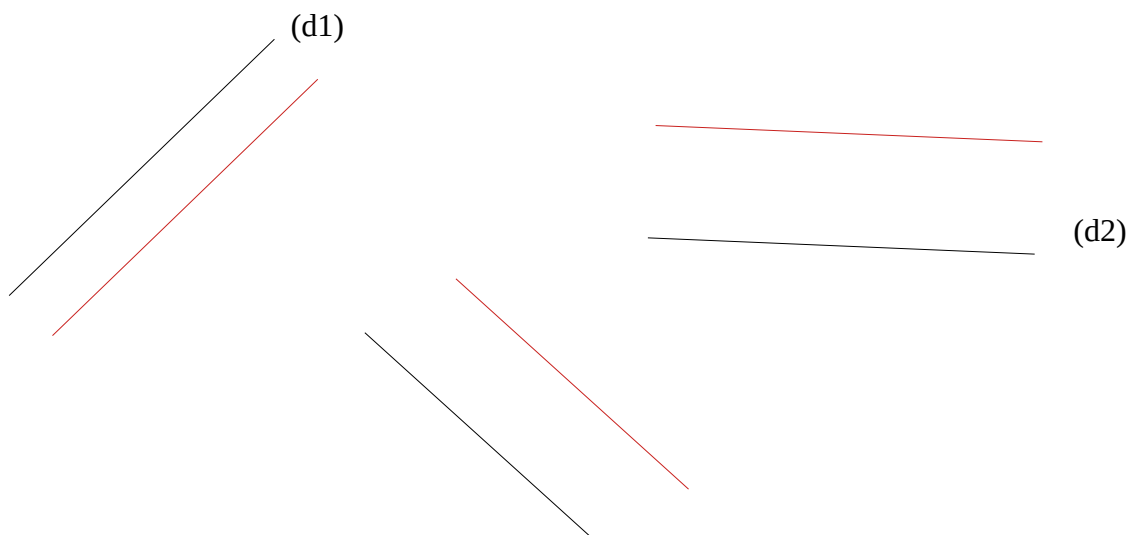


Exercice 4 : Tracer deux droites perpendiculaires à la droite (f) que tu nommeras (g) et (h).



Que peux-tu dire des droites (g) et (h) ? **Les droites (g) et (h) sont parallèles**

Exercice 5 : Pour les différentes droites, trace une de leur parallèle en rouge.



Dictée

« Dépêche-toi, avance plus vite ! Crie Julia. Si nous n'allongeons pas le pas, nous ne serons jamais rentrés avant la nuit ».

James a beau faire, il ne peut suivre le rythme de Julia. Il commence à penser que cette randonnée est bien trop longue pour une journée.

« Attends-moi, Julia, je n'en peux plus. Rebroussons chemin.

- Jamais ! Fais ce que tu veux. Moi je continue. »

Auto-correction



- Impératif
- présent
- A et à
- -é et -er

Rédaction : Raconte-moi tes vacances.

Tu dois écrire au minimum 10 lignes sur tes vacances, ton texte sera au passé composé. Tu dois me raconter tes passes-temps et me donner ton avis. Attention à l'orthographe ! Tu dois utiliser un brouillon. Il faut bien se relire !

Correction individuelle