


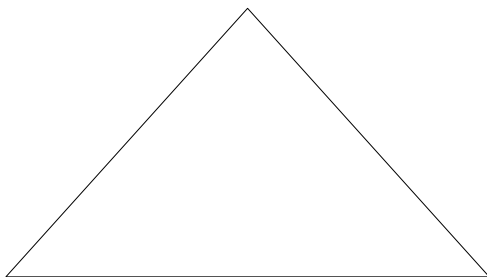
Dossier N° 6 : 30/04 et 01/05

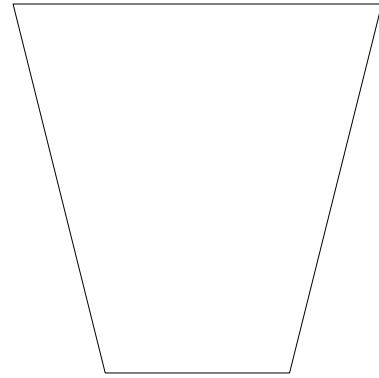
Lecture : lire le chapitre 31

- 1) Qu'est-ce qu'une voiture dans ce chapitre ? **Une calèche**
- 2) Illustrer la voiture ainsi que son chauffeur. Attention aux couleurs. (dessin à faire sur une feuille A4) = **Travail personnel sans correction**
- 3) Pourquoi les enfants sont heureux de se rendre dans ce nouvel endroit ? **Les enfants sont heureux car ils se rendent dans un pays où les enfants n'auront pas d'école**
- 4) Qu'est-ce qu'un brancard dans le chapitre 31 ? **Un brancard désigne à l'origine une barre ou pièce de bois allongée permettant de transporter un objet auquel elle est solidement fixée.**
- 5) Pinocchio est une fois de plus devant un dilemme, quel est-il et quel est son choix ?
Pinocchio doit faire un choix : Rentrer chez lui pour étudier où partir au Pays Des Récréations et s'amuser.
- 6) Pourquoi l'ânon pleure-t-il selon toi ? **Hypothèse personnelle**
- 7) Comment décrirais-tu le Pays des Récréations ?
Le Pays des Récréations est un lieu d'amusement sans responsabilités. Les enfants sont insouciants dans ce lieu utopique.
- 8) Voudrais-tu te rendre dans ce pays ? Pourquoi ? **Réponse personnelle**
- 9) « [...] Pinocchio eut une sacrée mauvaise surprise, qui le mit de très méchante humeur. ». Imagine la suite de l'histoire. Tu dois faire au moins 5 lignes.
Hypothèse personnelle.

Géométrie : Les périmètres

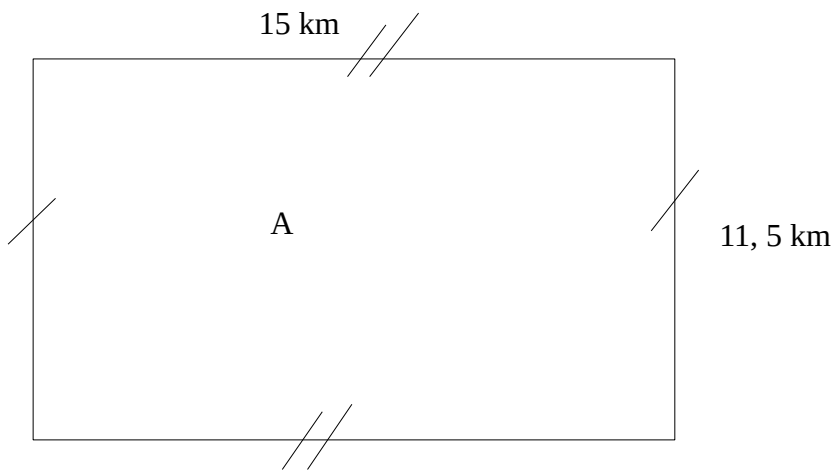
Exercice 1 : Classer les polygones du plus petit au plus grand.





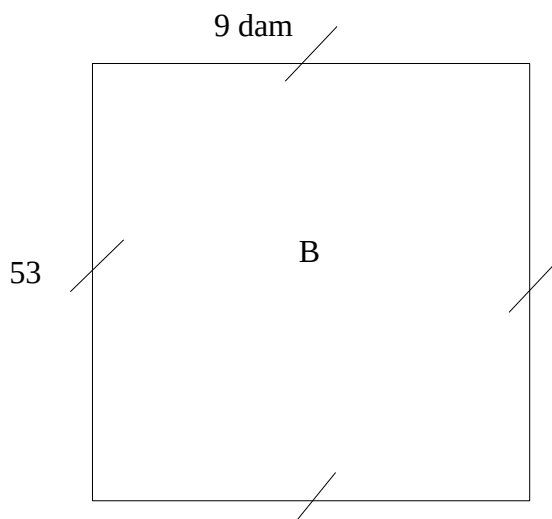
Il faut utiliser le compas, pour chaque polygone il faut relever la longueur des côtés avec le compas.

Exercice 2 : Calculer les périmètres et les donner en cm.



$$15 + 15 + 11,5 + 11,5 = 53 \text{ km}$$
$$53 \text{ km} = 5\,300\,000 \text{ cm}$$


$$P(A) = 5\,300\,000$$



$$C \times 4 = 9 \times 4 = 36 \text{ dam}$$
$$36 \text{ dam} = 36\,000 \text{ cm}$$
$$P(B) = 36\,000 \text{ cm}$$

Exercice 3 : Le Pays des Récréations mesure 5 km de longueur et 7 hm de largeur. Pinocchio met 1 heure pour parcourir 2 km. Combien de temps va-t-il mettre pour faire le tour du Pays des Récréations ?

$$7 \text{ hm} = 0,7 \text{ km}$$



$$5 + 5 + 0,7 + 0,7 = 11,4 \text{ km}$$

$$P(\text{Le Pays des Récréations}) = 11,4 \text{ km}$$

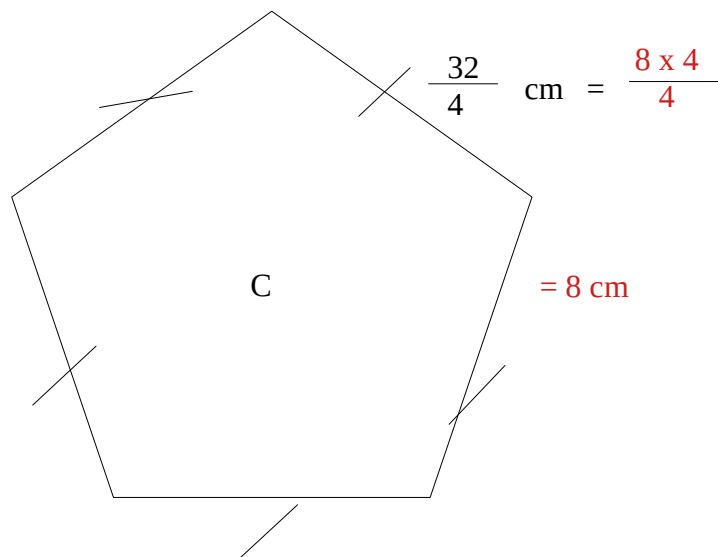
$11,4 : 2 = 5,7$ Pinocchio mettra un peu plus de 5 heures pour faire le tour du Pays des récréations.

Exercice 4 : Construire une figure géométrique à 4 côtés et de périmètre $\frac{16}{4}$ cm.

$$\frac{4}{4} = 1 \quad \frac{16}{4} = \frac{4}{4} + \frac{4}{4} + \frac{4}{4} + \frac{4}{4} = 1 + 1 + 1 + 1 = 4$$



Exercice 5 : Calcule le périmètre du polygone.



$$8 \times 5 = 40 \text{ cm}$$

$$P(C) = 40 \text{ cm}$$

Exercice 6 : Mesure les longueurs de ta chambre et calcule son périmètre.

Correction individuelle

Histoire :

Louis XIV est-il un roi puissant ?

1) Décris le château de Versailles et ses environs.

Le Château de Versailles est un très grand château . Il y a beaucoup de dorure, les jardins sont immenses et représentent des figures symétriques. Il y a des fontaines dorées qui représentent des mythes de l'antiquité.

2) À ton avis, pourquoi Louis XIV l'a-t-il fait construire ?

Louis XIV l'a fait construire pour pouvoir y vivre avec sa famille ainsi qu'avec ses courtisans. Le Château de Versailles est un moyen pour le roi de montrer sa grandeur.

3) Qui aide Louis XIV à diriger la France pendant les premières années de son règne ?

Durant les premières années de son règne Louis XIV règne seul sans ministre.

4) Quel nom donne-t-on ensuite à la façon de gouverner du roi ?

Cette manière de gouverner est une monarchie absolue.

5) Louis XIV dirige-t-il vraiment seul son royaume ? Explique ta réponse

Louis XIV est le seul décisionnaire mais il est entouré de nombreux conseillers, et dans les provinces il délègue son pouvoir à des gouverneurs et des intendants.

6) À quelle heure le roi se lève-t-il ? Il se lève à 8h15

7) Quand le roi n'est-il pas entouré de courtisans ? Le roi est toujours entouré de courtisans

8) À ton avis, pourquoi y a-t-il autant de courtisans à Versailles ?

Il y a autant de courtisans au château car être auprès du roi est un honneur, chaque moment de la journée du roi est un privilège.

9) Selon Fénelon, dans quelle situation se trouvent les habitants du royaume ?

Selon Fénelon les habitants du royaume sont désespérés et affamés.

10) Comment Fénelon explique-t-il cette situation ?

Selon Fénelon le roi délaisse son peuple, et les guerres ont un prix.

Pour Julien, le plus difficile dans la vie, c'était de se lever le matin...

Mais ce vendredi, c'était encore plus pénible que d'habitude. Sa mère ne savait plus que faire. Elle l'appelait, elle le secouait. Enfin au bout d'un quart d'heur, il parvenait à sortir du lit. Il enfilait son pantalon et ses chaussettes qui étaient sur la chaise et se rendait compte de l'heure tardive. Déjà, ces derniers jours, il s'était présenté deux fois en retard à la porte de sa classe. Alors son repas rapidement avalé, il se précipitait vers son école.

Auto-correction



- Imparfait
- mots invariables
- à / a

Rédaction : Raconte-moi tes vacances.

Tu dois écrire au minimum 10 lignes sur tes vacances, ton texte sera au passé composé. Tu dois me raconter tes passes-temps et me donner ton avis. Attention à l'orthographe ! Tu dois utiliser un brouillon. Il faut bien se relire !

Correction personnelle